

1. Geld zeichnen

1. Wie sieht das schweizerische Geld aus? Zeichne alle Noten und Münzen, die du kennst.










2. Kennst du auch Geld aus anderen Ländern? Zeichne es.

Geldwerkstatt 1./2. Klasse


2. Münzen anschreiben

Das sind die schweizerischen Münzen. Schreibe sie richtig an.

	5 Franken 5 Fr.	
	_____	2 Fr.
	_____	5 Franken
	_____	20 Rp.
	_____	2 Franken
	_____	5 Rappen
	_____	1 Fr.
	_____	10 Rp.
	_____	50 Rp.
	_____	10 Rappen
	_____	50 Rappen
	_____	1 Franken
	_____	5 Rp.
	_____	20 Rappen
	_____	5 Fr.

3. Falsche Münzen

So viel Geld! Aber da stimmt doch etwas nicht! Streiche die falschen Münzen durch.



Geldwerkstatt 1./2. Klasse

4. Noten anschreiben





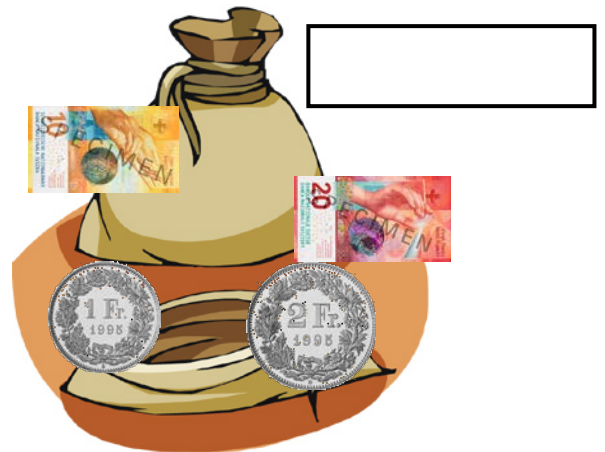

Schreibe die Noten richtig an.

	10 Franken 10 Fr.
	_____
	_____
	_____
	_____
	_____

Geldwerkstatt 1./2. Klasse

5. Geldbeträge lesen

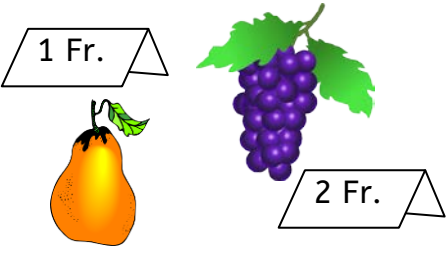

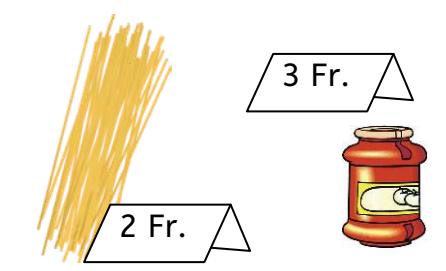
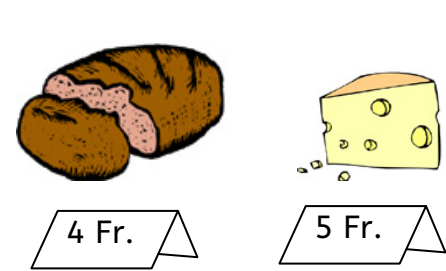

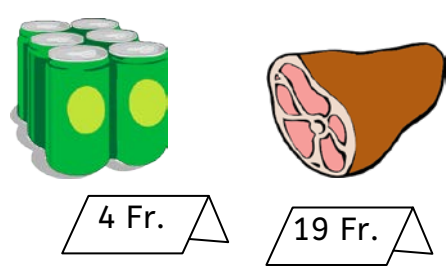
Wie viel Geld hat der Dieb geklaut? Zähle das Geld.

 Fr.

Geldwerkstatt 1./2. Klasse









6. Gesamtpreis zeichnen und berechnen

Die Mutter kauft ein. Wie viel Geld braucht sie?


 <p>1 Fr.</p> <p>2 Fr.</p>		Es kostet ____ Fr.
 <p>2 Fr.</p> <p>3 Fr.</p>		Es kostet ____ Fr.
 <p>4 Fr.</p> <p>5 Fr.</p>		Es kostet ____ Fr.
 <p>8 Fr.</p> <p>14 Fr.</p>		Es kostet ____ Fr.
 <p>4 Fr.</p> <p>19 Fr.</p>		Es kostet ____ Fr.



7. Gesamtpreis berechnen

Fussballgeschäft



 9 Fr.	 10 Fr.	 24 Fr.	 7 Fr.	 30 Fr.
 15 Fr.	 5 Fr.			 2 Fr.



Berechne, was es kostet.

	
_____	_____
+	=
_____	_____

	
_____	_____
+	=
_____	_____

Wähle selber aus und zeichne.

	
_____	_____
+	=
_____	_____

	
_____	_____
+	=
_____	_____

Geldwerkstatt 1./2. Klasse

8. Geldbeträge unterschiedlich darstellen

Zeichne immer 3 Möglichkeiten

Die Kassiererin muss 10 Franken geben.

--	--	--



Der Postangestellte muss immer 17 Franken geben.

--	--	--








Du darfst selber auswählen: Ich muss immer ____ Fr. geben.

--	--	--



9. Restgeld berechnen

Ich habe:	Ich kaufe:	Es bleibt:
<p>5 Fr. 2 Fr.</p>	 <p>2 Fr.</p>	<p>5 Fr. 2 Fr.</p> <p>Es bleiben ____ Fr. übrig.</p>
<p>1 Fr. 2 Fr. 2 Fr.</p>	 <p>4 Fr.</p>	<p>1 Fr. 2 Fr. 2 Fr.</p> <p>Es bleiben ____ Fr. übrig.</p>
<p>1 Fr. 1 Fr. 1 Fr.</p> <p>1 Fr. 5 Fr. 2 Fr.</p>	 <p>8 Fr.</p>	<p>1 Fr. 1 Fr. 1 Fr.</p> <p>1 Fr. 5 Fr. 2 Fr.</p> <p>Es bleiben ____ Fr. übrig.</p>
<p>10 Fr. 20 Fr.</p> <p>1 Fr. 5 Fr. 2 Fr.</p>	 <p>17 Fr.</p>	<p>10 Fr. 20 Fr.</p> <p>1 Fr. 5 Fr. 2 Fr.</p> <p>Es bleiben ____ Fr. übrig.</p>
<p>2 Fr. 5 Fr. 1 Fr.</p> <p>10 Fr. 5 Fr.</p>	 <p>7 Fr. 6 Fr.</p>	<p>2 Fr. 5 Fr. 1 Fr.</p> <p>10 Fr. 5 Fr.</p> <p>Es bleiben ____ Fr. übrig.</p>

Geldwerkstatt 1./2. Klasse


10. Restgeld


Berechne das Wechselgeld

Ich kaufe:  4 Fr.


Ich gebe: 


Ich bekomme ____ Fr. zurück.

Ich kaufe:  12 Fr.


Ich gebe: 

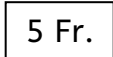
Ich bekomme ____ Fr. zurück.

Ich kaufe:  7 Fr.

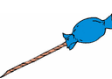
Ich gebe: 


Ich bekomme ____ Fr. zurück.

Ich kaufe:  6 Fr.

Ich gebe:  5 Fr.

Ich bekomme ____ Fr. zurück.

Ich kaufe:  3 Fr.

Ich gebe: 

Ich bekomme ____ Fr. zurück.

Ich kaufe:  12 Fr.

Ich gebe:  7 Fr.

Ich bekomme ____ Fr. zurück.

Sandra hat 5 Fr. und Tom 3 Fr. Wie viel haben sie zusammen?

Zeichnung:

Rechnung: _____

Antwort: _____

Robert hat 20 Fr. Er kauft einen Ball für 7 Fr. Wie viel Geld hat er noch?

Zeichnung:



Rechnung: _____

Antwort: _____

Mama geht mit Leo und Anna in den Zoo. Der Eintritt für ein Kind kostet 5 Fr. Ein Erwachsener kostet 10 Fr. Wie viel zahlt Mama?

Zeichnung:



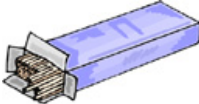
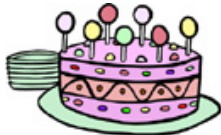






Rechnung: _____

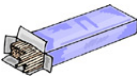


Antwort: _____



Geldwerkstatt 1./2. Klasse

12. Sachaufgaben mit Tabellen

					
2 Fr.	1 Fr.	4 Fr.	12 Fr.	6 Fr.	3 Fr.

Familie Lang kauft:	
	Preis
	
	
zusammen:	

Familie Frei kauft:	
	Preis
	
	
	
zusammen:	

Familie Kalt kauft:	
	Preis
	
	
zusammen:	

Was kaufst du?	
	Preis
zusammen:	

Kaufe ein für 20 Fr.	
	Preis
zusammen: 20 Fr.	

1. Geld zeichnen

1. Wie sieht das schweizerische Geld aus? Zeichne alle Noten und Münzen, die du kennst.



Fünfliber



5 Fr.

Zweifränkler



2 Fr.

Einfränkler



1 Fr.

Fünziger



50 Rp.

Zwanziger



20 Rp.

Zehner




10 Rp.

Fünfer



5 Rp.



10 Fr.



20 Fr.



50 Fr.



100 Fr.



200 Fr.










1000 Fr.

2. Kennst du auch Geld aus anderen Ländern? Zeichne es.

2. Münzen anschreiben

Das sind die schweizerischen Münzen. Schreibe sie richtig an.

 <p>5 Franken 5 Fr.</p>	<p>2 Fr. 5 Franken 20 Rp. 2 Franken 5 Rappen 1 Fr. 10 Rp. 50 Rp. 10 Rappen 50 Rappen 1 Franken 5 Rp. 20 Rappen</p>
 <p>2 Franken 2 Fr.</p>	
 <p>1 Franken 1 Fr.</p>	
 <p>50 Rappen 5 Rp.</p>	
 <p>20 Rappen 20 Rp.</p>	
 <p>10 Rappen 10 Rp.</p>	
 <p>5 Rappen 5 Rp.</p>	

3. Falsche Münzen

So viel Geld! Aber da stimmt doch etwas nicht! Streiche die falschen Münzen durch.




4. Noten anschreiben

Schreibe die Noten richtig an.

	10 Franken 10 Fr.
	20 Franken 20 Fr.
	50 Franken 50 Fr.
	100 Franken 100 Fr.
	200 Franken 200 Fr.
	1000 Franken 1000 Fr.

5. Geldbeträge lesen


Wie viel Geld hat der Dieb geklaut? Zähle das Geld.



20 Fr.



7 Fr.



33 Fr.

10 Fr.



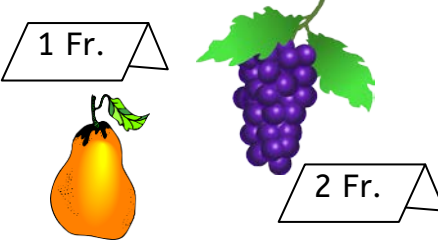

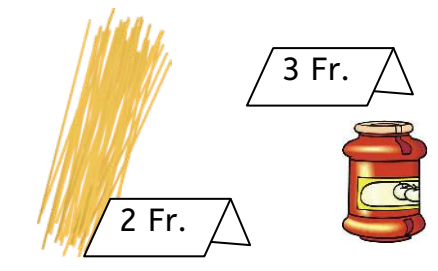




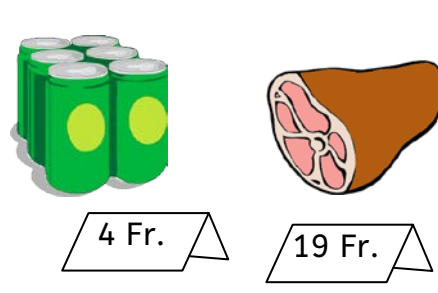
22 Fr.



51 Fr.









6. Gesamtpreis zeichnen und berechnen

Die Mutter kauft ein. Wie viel Geld braucht sie?



		<p>Es kostet 3 Fr.</p>
	<p>oder</p> 	<p>Es kostet 5 Fr.</p>
		<p>Es kostet 9 Fr.</p>
	<p>verschiedene Möglichkeiten</p>	<p>Es kostet 22 Fr.</p>
	<p>verschiedene Möglichkeiten</p>	<p>Es kostet 23 Fr.</p>



7. Gesamtpreis berechnen

Fussballgeschäft



				
9 Fr.	10 Fr.	24 Fr.	7 Fr.	30 Fr.
				
15 Fr.	5 Fr.			2 Fr.



Berechne, was es kostet.

	
$9 \text{ Fr.} + 10 \text{ Fr.} = 19 \text{ Fr.}$	






	
$5 \text{ Fr.} + 2 \text{ Fr.} = 7 \text{ Fr.}$	

Wähle selber aus und zeichne.

	
$15 \text{ Fr.} + 30 \text{ Fr.} = 45 \text{ Fr.}$	

	
_____ + _____ = _____	

9. Restgeld berechnen

Ich habe:	Ich kaufe:	Es bleibt:
<p>5 Fr. 2 Fr.</p>	 <p>2 Fr.</p>	<p>5 Fr. 2 Fr.</p> <p>Es bleiben 5 Fr. übrig.</p>
<p>1 Fr. 2 Fr. 2 Fr.</p>	 <p>4 Fr.</p>	<p>1 Fr. 2 Fr. 2 Fr.</p> <p>Es bleiben 1 Fr. übrig.</p>
<p>1 Fr. 1 Fr. 1 Fr.</p> <p>1 Fr. 5 Fr. 2 Fr.</p>	 <p>8 Fr.</p>	<p>1 Fr. 1 Fr. 1 Fr.</p> <p>1 Fr. 5 Fr. 2 Fr.</p> <p>Es bleiben 3 Fr. übrig.</p>
<p>10 Fr. 20 Fr.</p> <p>1 Fr. 5 Fr. 2 Fr.</p>	 <p>17 Fr.</p>	<p>10 Fr. 20 Fr.</p> <p>1 Fr. 5 Fr. 2 Fr.</p> <p>Es bleiben 21 Fr. übrig.</p>
<p>2 Fr. 5 Fr. 1 Fr.</p> <p>10 Fr. 5 Fr.</p>	 <p>7 Fr. 6 Fr.</p>	<p>2 Fr. 5 Fr. 1 Fr.</p> <p>10 Fr. 5 Fr.</p> <p>Es bleiben 10 Fr. übrig.</p>

10. Restgeld

Berechne das Wechselgeld


Ich kaufe: Ich gebe:




4 Fr.

Ich bekomme **1** Fr. zurück.

Ich kaufe: Ich gebe:




12 Fr.

Ich bekomme **8** Fr. zurück.

Ich kaufe: Ich gebe:




7 Fr.

Ich bekomme **3** Fr. zurück.

Ich kaufe: Ich gebe:





6 Fr.

5 Fr.

Ich bekomme **1** Fr. zurück.

Ich kaufe: Ich gebe:





3 Fr.

5 Fr.

Ich bekomme **2** Fr. zurück.

Ich kaufe: Ich gebe:





12 Fr.

7 Fr.

Ich bekomme **1** Fr. zurück.

11. Textaufgaben

Sandra hat 5 Fr. und Tom 3 Fr. Wie viel haben sie zusammen?

Zeichnung:

Rechnung: $5 \text{ Fr.} + 3 \text{ Fr.} = 8 \text{ Fr.}$

Antwort: **Zusammen haben sie 8 Franken.**

Robert hat 20 Fr. Er kauft einen Ball für 7 Fr. Wie viel Geld hat er noch?

Zeichnung:



Rechnung: $20 \text{ Fr.} - 7 \text{ Fr.} = 13 \text{ Fr.}$

Antwort: **Zusammen haben sie 13 Franken.**

Mama geht mit Leo und Anna in den Zoo. Der Eintritt für ein Kind kostet 5 Fr. Ein Erwachsener kostet 10 Fr. Wie viel zahlt Mama?

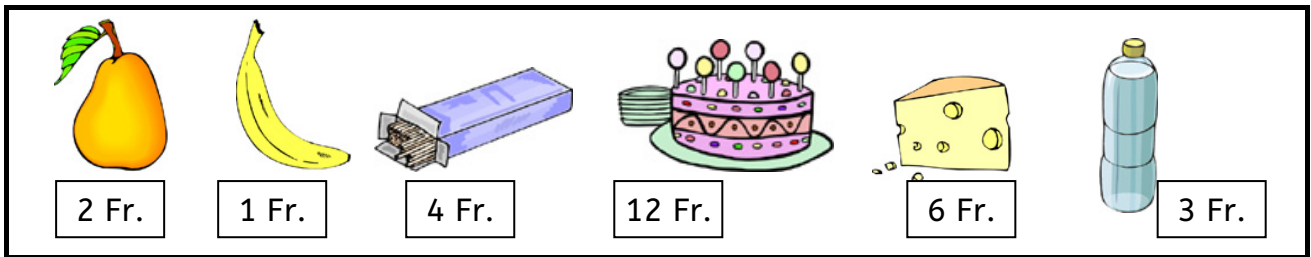
Zeichnung:



Rechnung: $5 \text{ Fr.} + 5 \text{ Fr.} + 10 \text{ Fr.} = 20 \text{ Fr.}$

Antwort: **Mama zahlt 20 Franken.**

12. Sachaufgaben mit Tabellen



Familie Lang kauft:	
	Preis
	4 Fr.
	3 Fr.
zusammen: 7 Fr.	

Familie Frei kauft:	
	Preis
	4 Fr.
	6 Fr.
	2 Fr.
zusammen: 12 Fr.	

Familie Kalt kauft:	
	Preis
	12 Fr.
	6 Fr.
zusammen: 18 Fr.	

Was kaufst du?	
	Preis
zusammen:	

Kaufe ein für 20 Fr.	
	Preis
zusammen: 20 Fr.	

© Lehrmittel Boutique Marisa Herzog

Vorlage: Adelma Nwaozi-Romanello

Bilder:

Openclipart <https://openclipart.org/>

Clipart.com <http://www.clipart.com/de/>

Melonheadz <http://www.teacherspayteachers.com/Store/Melonheadz>

Charlottes Clip <http://www.teacherspayteachers.com/Store/Charlottes-Clips-4150>

Schweizer Münzen und Banknoten, Schweizerische Nationalbank

http://www.snb.ch/de/iabout/cash/id/cash_coins

http://www.snb.ch/de/iabout/cash/current/design/id/cash_current_design_50

Reproduktionsvorschriften: http://www.snb.ch/de/iabout/cash/id/cash_reprod